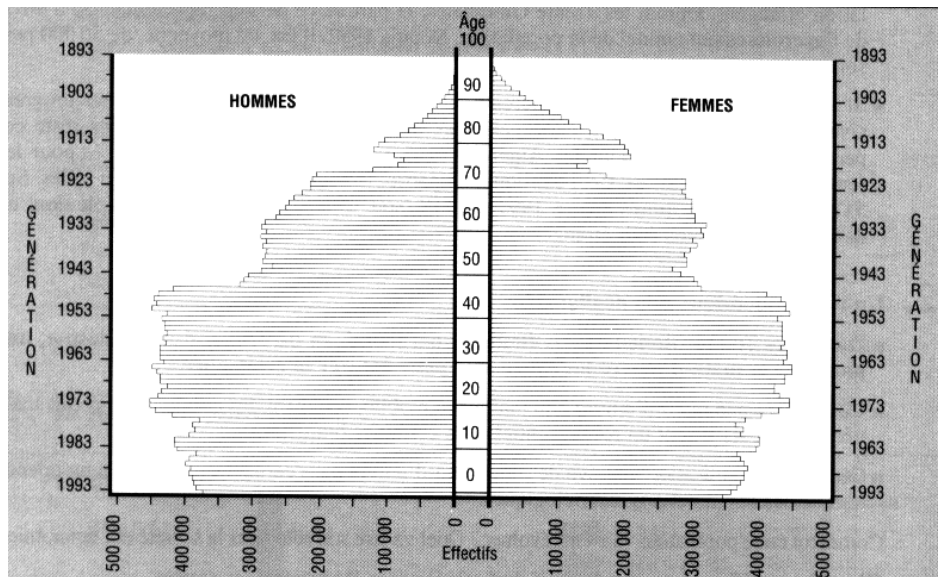


# ÉVALUATION

## La population française (1 heure)

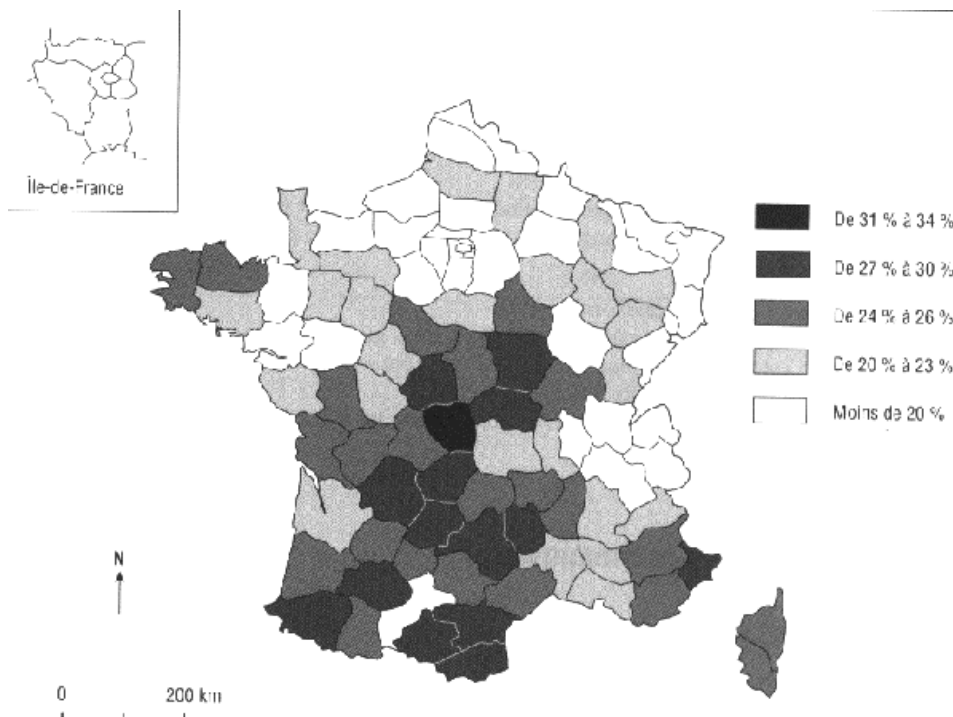
### Documents

Document 1 : La pyramide des âges au 1er janvier 1994



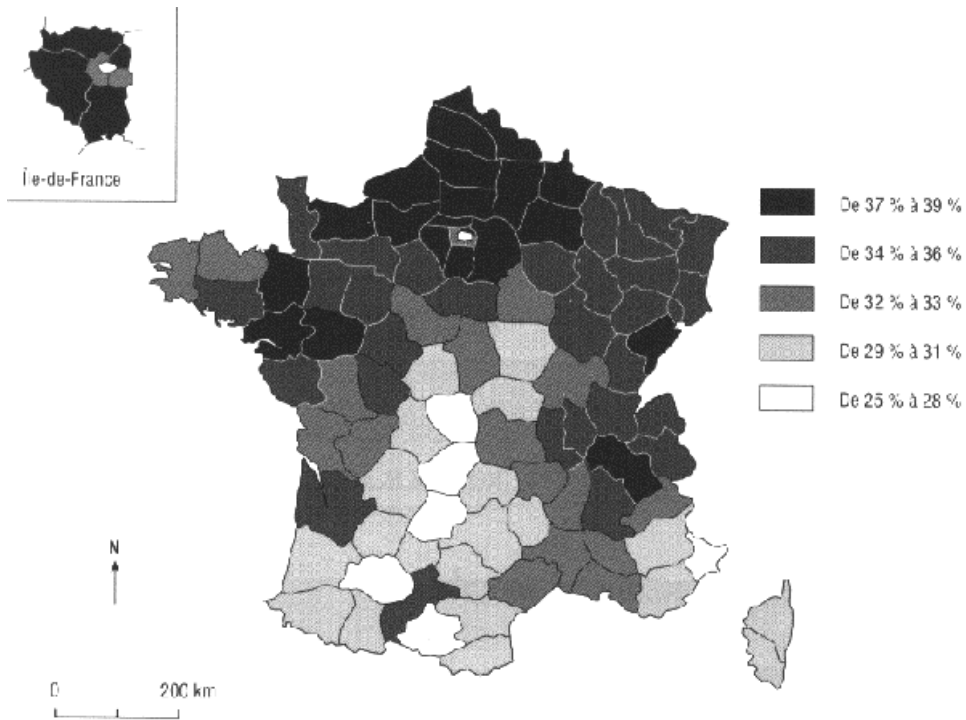
Source : Bernard Braun et Francis Collignon, *La France en fiches*, Bréal, 1995, p.62.

Document 2 : La part de la population âgée de plus de 60 ans



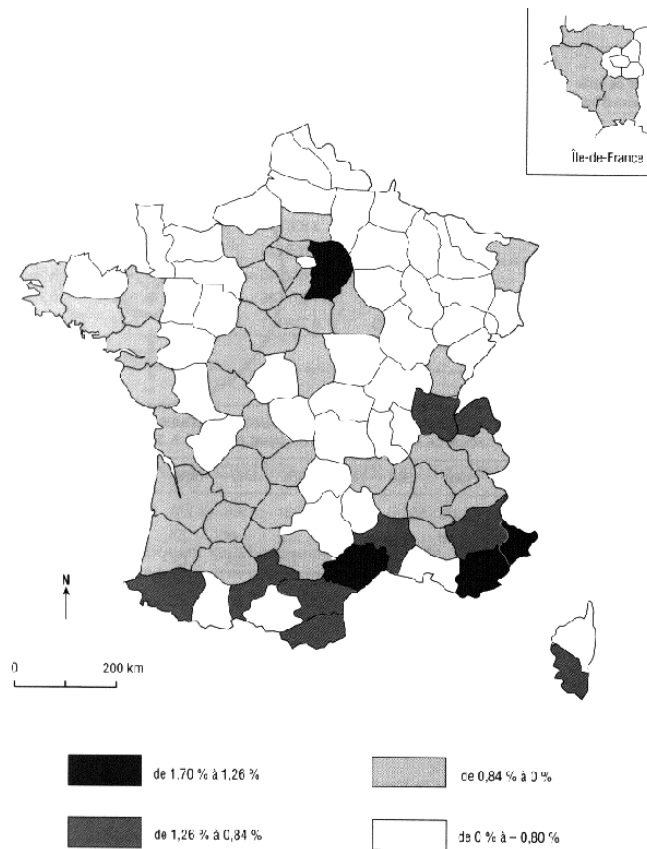
Source : Bernard Braun et Francis Collignon, *La France en fiches*, Bréal, 1995, p.65.

**Document 3 : La part de la population âgée de moins de 25 ans**



**Source :** Bernard Braun et Francis Collignon, *La France en fiches*, Bréal, 1995, p.66.

**Document 4 : Le solde migratoire : variation annuelle de 1982 à 1990**



**Source :** Bernard Braun et Francis Collignon, *La France en fiches*, Bréal, 1995, p.80.

## Questions

### **Questions sur le document 1 (6,5 points)**

1. Analysez cette pyramide des âges au 1er janvier 1994.
2. Que peut-on en déduire sur l'évolution future de la population française ?
3. Quelles seront les conséquences de cette évolution ?

### **Questions sur le document 2 (2,5 points)**

4. Dans quelles régions la part des personnes âgées est-elle la plus importante ?
5. Qu'est-ce qui permet d'expliquer cette répartition ?

### **Questions sur le document 3 (2,5 points)**

6. Dans quelles régions la part des jeunes est-elle la plus importante ?
7. Qu'est-ce qui permet d'expliquer cette répartition ?

### **Questions sur les documents 2 et 3 (2 points)**

8. Comparez les documents.
9. Quel contraste apparaît ?

### **Questions sur le document 4 (6,5 points)**

10. Après avoir expliqué ce qu'est le solde migratoire, vous repérez les foyers de départ et les foyers d'arrivée.
11. Donnez au moins trois facteurs d'explication de ces migrations. Précisez dans chacun des cas quel type de population migre.